

Name: _____

Schriftliche Addition mit Übertrag

Datum: _____







Bei einem Schulfest zu Gunsten von UNICEF wurden für selbst gebastelte Geschenkartikel 218€ und für Kuchen und Getränke 124€ eingenommen. Wie viel Geld konnte gespendet werden?

H	Z	E
2	1	8
1	2	4

H	Z	E
		
		











1. Aufgabe aufschreiben! Achte dabei auf die Stellenwerte!

H	Z	E
2	1	8
1	2	4
		12

H	Z	E
		
		
		

2. Beginne bei den Einern und zähle diese zusammen! Von unten nach oben!

H	Z	E
2	1	8
1	2	4
	1	
		12
3	4	2

H	Z	E
		
		
		
		

3. Sind es 10 oder mehr, die 10 wechseln und das Ergebnis aufschreiben!

Schreibe stellengerecht untereinander und addiere! Kontrolliere mit Hilfe der Kontrollzahlen im Igel!

$302 + 169 = \underline{\quad}$

$708 + 173 = \underline{\quad}$

$712 + 109 = \underline{\quad}$

$334 + 547 = \underline{\quad}$

$219 + 213 = \underline{\quad}$

$813 + 158 = \underline{\quad}$

H Z E	H Z E	H Z E
3 0 2		
+ 1 6 9	+	+
_____	_____	_____

H Z E	H Z E	H Z E
+	+	+
_____	_____	_____

